

# Caderno de Prova



16 de maio



das 14 às 18 h



4 h\*



**Confira o número que você obteve no ato da inscrição com o que está indicado no cartão-resposta.**

\* A duração da prova inclui o tempo para o preenchimento do cartão-resposta.

## Instruções

Para fazer a prova você usará:

- este **caderno de prova**;
- um **cartão-resposta** que contém o seu nome, número de inscrição e espaço para assinatura.

Verifique, no caderno de prova, se:

- faltam folhas e a sequência de 50 questões está correta.
- há imperfeições gráficas que possam causar dúvidas.

**Comunique imediatamente ao fiscal qualquer irregularidade.**

## Atenção!

- Não é permitido qualquer tipo de consulta durante a realização da prova.
- Para cada questão são apresentadas 5 (cinco) alternativas diferentes de respostas (a, b, c, d, e). Apenas uma delas constitui a resposta correta em relação ao enunciado da questão.
- A interpretação das questões é parte integrante da prova, não sendo permitidas perguntas aos fiscais.
- Não destaque folhas da prova.

Ao terminar a prova, entregue ao fiscal o caderno de prova completo e o cartão-resposta devidamente preenchido e assinado.

O gabarito será divulgado em: <http://taxipmf.fepese.ufsc.br>



# Conhecimentos Gerais

(20 questões)

## Aspectos históricos, geográficos e culturais do Município

(4 questões)

1. Segundo estimativa do IBGE, a população do município de Florianópolis era, em 2009:

- a. ( ) Aproximadamente 250.000 habitantes.
- b. (X) Um pouco mais de 408.000 habitantes.
- c. ( ) Entre 600.000 e 700.000 habitantes.
- d. ( ) 750.000 habitantes.
- e. ( ) Um pouco mais de 1.000.000 habitantes.

2. Assinale a alternativa que indica as principais atividades econômicas de Florianópolis.

- a. (X) Turismo e comércio.
- b. ( ) Agroindústria e indústria têxtil.
- c. ( ) Diversão e extrativismo vegetal.
- d. ( ) Atividades financeiras-indústria metal mecânica.
- e. ( ) Pecuária, softwares, hardwares e indústria de cerâmica.

3. Sobre a Ponte Hercílio Luz, é **verdadeiro**.

- a. ( ) A Ponte Hercílio Luz é a maior ponte do hemisfério sul.
- b. ( ) A Ponte Colombo Machado Salles foi a primeira ligação entre a ilha e o continente.
- c. ( ) Antes da inauguração da Ponte Hercílio Luz, a travessia entre a ilha e o continente era feita através de uma ponte de madeira, que ligava o Estreito à região da Rita Maria.
- d. ( ) A ponte Hercílio Luz foi construída com o emprego de mão-de-obra escrava e nas suas fundações foi empregado azeite de baleia extraído na Armação da Piedade.
- e. (X) A Ponte Hercílio Luz foi inaugurada em 13 de maio de 1926 sem a presença do seu idealizador, que havia falecido.

4. O povoamento efetivo do litoral catarinense tem início com a fundação de São Francisco e mais tarde de Desterro e Laguna. Podemos associar a fundação da vila do Desterro, hoje Florianópolis, à (ao):

- a. ( ) imigração Alemã.
- b. ( ) imigração Italiana.
- c. ( ) povoamento Açoriano.
- d. (X) povoamento Vicentista.
- e. ( ) construção do caminho do mar, ligando as Gerais às vacarias do sul.

## Matemática Básica

(4 questões)

5. Em uma cidade, o preço de uma viagem de taxi depende apenas da distância percorrida e do tempo de viagem, sendo cobrados R\$0,40 por minuto de viagem e R\$ 1,10 por km rodado.

Um passageiro pretende ir do ponto A ao ponto B e um taxista lhe oferece 5 opções de rota diferentes.

Assinale a alternativa que indica a rota mais econômica para o passageiro:

- a. ( ) Rota 1 – leva 30 minutos e percorre 20 km
- b. (X) Rota 2 – leva 40 minutos e percorre 15 km
- c. ( ) Rota 3 – leva 20 minutos e percorre 30 km
- d. ( ) Rota 4 – leva 60 minutos e percorre 10 km
- e. ( ) Rota 5 – leva 50 minutos e percorre 12 km

6. João compra um carro novo que tem uma vida útil de 200.000 km. Sabendo-se que após 5 anos João rodou 140.000 km com o carro, podemos afirmar que restam ao carro:

- a. ( ) 20% de sua vida útil.
- b. ( ) 25% de sua vida útil.
- c. (X) 30% de sua vida útil.
- d. ( ) 35% de sua vida útil.
- e. ( ) 40% de sua vida útil.

7. Em uma localidade, 200 táxis atendem a 9.800 pessoas a cada 7 dias. Logo, o número de táxis necessários para atender a 63.000 pessoas a cada 30 dias é:

- a. ( ) 250.
- b. ( ) 275.
- c. (X) 300.
- d. ( ) 325.
- e. ( ) 350.

---

8. João, Luiz e Manoel vão dividir o custo de uma corrida de táxi proporcionalmente ao seu salário mensal. Sabendo-se que João recebe duas vezes e meia o que Manoel recebe, e que Manoel recebe o dobro que Luiz, podemos afirmar que João pagará:

- a. ( ) 12,5% do custo da corrida.
- b. ( ) 42,5% do custo da corrida.
- c. ( ) 52,5% do custo da corrida.
- d. ( ) 57,5% do custo da corrida.
- e. (X) 62,5% do custo da corrida.

---

### **Primeiros Socorros**

(4 questões)

9. São denominados primeiros socorros:

- a. ( ) a sinalização da via.
- b. ( ) as cirurgias feitas em campo.
- c. ( ) a remoção da vítima ao hospital.
- d. (X) as primeiras providências tomadas no local do acidente.
- e. ( ) somente os procedimentos de grupo especializado.

---

10. Ao auxiliar vítimas que estejam sangrando, é aconselhável que:

- a. ( ) se evitem movimentos delicados.
- b. ( ) se evite contato do sangue com a roupa.
- c. (X) se utilize uma luva de borracha ou similar.
- d. ( ) as mãos sejam lavadas somente após o atendimento.
- e. ( ) as mãos sejam lavadas antes e após o atendimento.

11. Ao auxiliar nos primeiros socorros, devemos garantir que as vítimas não terão suas lesões agravadas por demora no socorro ou:

- a. (X) por uma remoção mal feita.
- b. ( ) por uma remoção cuidadosa.
- c. ( ) pela gravidade dos ferimentos.
- d. ( ) pelo excesso de cuidado e dedicação.
- e. ( ) pelos cuidados excessivos com a vítima.

---

12. Em caso de acidente, ao se colocar pessoas na sinalização é importante que elas fiquem na lateral da pista e sempre:

- a. ( ) interrompendo o trânsito.
- b. ( ) abanando aos outros veículos.
- c. ( ) de lado para o fluxo de veículos.
- d. (X) de frente para o fluxo de veículos.
- e. ( ) de costas para o fluxo de veículos.

---

### **Língua Inglesa**

(4 questões)

---

#### **Reading comprehension**

##### **Driving all over the world**

###### **Milan - Spain**

People drive pretty slowly there. People use their cars for everything. You never see people walking on the street.

###### **Los Angeles – The United States of America**

People there are in love with their cars, and they drive very fast. Even the nicest people become more aggressive when they drive.

---

13. Choose the **correct** alternative, according to the texts.

- a. ( ) Driving fast is very common in Milan.
- b. (X) Driving in Los Angeles is more dangerous than in Milan.
- c. ( ) Traffic jams are very common in Los Angeles.
- d. ( ) Italians don't use their cars for everything.
- e. ( ) Americans hate their cars.

14. According to the texts, it is **correct** to say that:

- a. ( ) Italians drive carefully.
  - b. ( ) People drive dangerously in Milan.
  - c. ( ) People from the USA drive very slowly.
  - d. (X) People never walk on the street in Milan.
  - e. ( ) Americans use their cars for everything.
- 

15. Read the dialogue below.

TD: Good morning! May I help you?

P: Good morning! .....

TD: Sure, no problem.

Choose the **correct** alternative to complete the dialogue between a taxi driver and a passenger.

- a. ( ) Can you give a ride to the beach?
  - b. ( ) Do you have any brothers or sisters?
  - c. ( ) Sorry, what would you like to order?
  - d. ( ) Could you bring me some drinks and magazines?
  - e. (X) Can you get me to the nearest Shopping Center?
- 

16. Which alternative contains a **correct** description of Florianópolis?

- a. (X) It's a city well known by its wonderful beaches and landscapes.
- b. ( ) It's a city with no landscapes nor beaches.
- c. ( ) It's a small city with no Shopping Centers.
- d. ( ) It's a state in the south of Brazil.
- e. ( ) It's a town in the country side.

## Língua Espanhola

(4 questões)

17. En lo que se refiere a las formas de saludar y formas de despedida, señale la alternativa **correcta**:

- a. ( ) Buena noite / ¡Hola! / Até luego / ¡Adiós!
  - b. ( ) Boa tarde / ¿Cómo estás? / ¡Chao! / ¡Adiós!
  - c. ( ) Boa noite / ¿Cómo vai? / Muchas gracias / Hasta luego
  - d. (X) ¡Hola!, ¿Qué tal? / ¿Cómo estás? / Hasta luego / Hasta pronto.
  - e. ( ) Buenos días / ¿Qué tal? / Adeus / ¡Hasta pruento!
- 

18. Con respecto a las expresiones utilizadas para describir el tiempo o el clima, señale la alternativa en que todas las expresiones están **correctas**:

- a. ( ) Está nublado / chove / hace calor / el día está caloreno.
  - b. ( ) Hace mal tiempo / nieva / hay humedad / choverá mucho.
  - c. ( ) Está lloviendo / hay nuvens en el cielo / hace sol / el día está ensoleado.
  - d. ( ) El tiempo está húmedo / faz mal tiempo / nieva / chove.
  - e. (X) Hace buen tiempo / hay nubes en el cielo / hace frío / llueve.
- 

19. Señale la proposición en que el término subrayado está usado de forma **correcta**:

- a. ( ) Estoy de acordo con todo lo que dices.
- b. ( ) A veces suelo despertarme a las otio o nueve.
- c. (X) Quiero comprar unos pantalones, ¿dónde puedo encontrarlos?
- d. ( ) ¿Qué hora es, Rosa? Son las noye y media.
- e. ( ) ¿Cuánto cuesta un taxi desde el aeropuerto até el museo?

**20.** Juan viaja a Florianópolis, de **vacaciones**, en el verano. Llega en el aeropuerto y toma un taxi hasta el centro de la ciudad. **Llega al hotel**, descansa un poco en su habitación y después se va a caminar por la ciudad.

Juan pregunta a una persona:

— ¿La iglesia principal de la ciudad está **lejos de aquí**?

La persona le contesta:

— No, tienes que seguir la **calle** Pedro Medeiros hasta el final. Allí tienes que girar a la izquierda. Justo después, tienes que tomar la segunda calle a la derecha y seguir hasta la avenida de las Rosas donde giras a la derecha. Luego, tomas la segunda calle a la derecha y allí estás en la iglesia principal.

— Muchas gracias por la información. ¡Hasta luego!

— ¡Hasta luego!

De acuerdo con el texto, señale **V** para la(s) alternativas Verdadera(s) y **F** para la(s) alternativa(s) Falsa(s):

- ( ) “**Vacaciones**”, en la primera línea, significa en portugués “férias”.
- ( ) “**está lejos de aquí**” en portugués quiere decir “está perto daqui”.
- ( ) El significado en portugués de la palabra “**calle**” es “rua”.
- ( ) “**Llega al hotel**” es igual que “parte del hotel”.

Señale la alternativa **correcta**:

- a. ( ) V – F – F – V
- b. (X) V – F – V – F
- c. ( ) V – V – F – F
- d. ( ) F – V – V – F
- e. ( ) F – V – F – V

# Conhecimentos Específicos

(30 questões)

## Relações Humanas

(7 questões)

**21.** Como é denominado o princípio universal do qual derivam os direitos humanos e as atitudes fundamentais para o convívio social democrático?

- a.  Participação humanitária
- b.  Caridade humana
- c.  Fraternidade humana
- d.  Fraternidade humanística
- e.  Dignidade da pessoa humana

**22.** Como é denominado o princípio que fundamenta a mobilização das pessoas para se organizarem em torno dos problemas de trânsito e suas consequências para a sociedade?

- a.  Igualdade
- b.  Dignidade
- c.  Participação
- d.  Fraternidade
- e.  Associatividade

**23.** Como é denominada a possibilidade de exercer a cidadania plenamente através da equidade, isto é, a necessidade de considerar as diferenças das pessoas para garantir a igualdade, fundamentando a solidariedade?

- a.  Igualdade de direitos
- b.  Solidariedade pessoal
- c.  Disparidade de deveres
- d.  Disciplinaridade humana
- e.  Dignidade moral

**24.** Para que o trânsito se torne mais seguro são necessários convivência solidária e:

- a.  Policiamento ostensivo.
- b.  Respeito à pessoa humana.
- c.  Desrespeito a pessoa humana.
- d.  Julgamento rigoroso com delitos.
- e.  Salário compatível dos patrulheiros.

**25.** O espaço público é de todos, faça sua parte mantendo-o:

- a.  Ocupado.
- b.  Para uso próprio.
- c.  Alegre e divertido.
- d.  Limpo e conservado.
- e.  De modo a lhe servir.

**26.** Faça a manutenção, observação e limpeza do veículo em local:

- a.  Baldio.
- b.  Próprio.
- c.  Público.
- d.  Proibido.
- e.  Sem fiscalização.

**27.** Os entulhos devem ser transportados para:

- a.  Locais próprios.
- b.  As margens das estradas vicinais.
- c.  Qualquer terreno público.
- d.  Terrenos baldios.
- e.  A via pública.

**Direção Defensiva**

(8 questões)

**28.** Pneus murchos têm sua vida útil diminuída, prejudicam a estabilidade, reduzem a aderência em piso molhado e:

- a. ( ) Aumentam o atrito.
- b. ( ) Tornam o veículo mais veloz.
- c. ( ) Diminuem a força centrífuga.
- d. ( ) Diminuem o consumo de lubrificante.
- e. (X) Aumentam o consumo de combustível.

**29.** As presilhas anulam os efeitos:

- a. ( ) Da trepidação.
- b. ( ) Da frenagem rápida.
- c. (X) Do cinto de segurança.
- d. ( ) Das pastilhas de freio.
- e. ( ) Da tração das rodas.

**30.** Ao dirigir, o condutor deve evitar apoiar os pés nos pedais, quando não os estiver usando, e:

- a. ( ) Apoiá-los no painel.
- b. ( ) Apoiá-los no banco.
- c. ( ) Mantê-los em movimento.
- d. ( ) Manter os calcanhares elevados.
- e. (X) Manter os calcanhares apoiados no assoalho do veículo.

**31.** Quanto mais o condutor enxerga o que acontece à sua volta enquanto dirige, maior a possibilidade de:

- a. (X) Evitar situações de perigo.
- b. ( ) Criar situações de perigo.
- c. ( ) Não perceber o perigo.
- d. ( ) Distração no volante.
- e. ( ) Provocar acidentes.

**32.** A fumaça produzida por queimadas nos terrenos à margem da via provoca redução da visibilidade; além disso, a fuligem proveniente da queimada pode:

- a. ( ) Preservar a dirigibilidade.
- b. (X) Reduzir a aderência do piso.
- c. ( ) Aumentar a aderência do piso.
- d. ( ) Diminuir a velocidade do veículo.
- e. ( ) Aumentar a força centrípeta.

**33.** Quando ficamos de frente para um farol alto ou um farol desregulado, perdemos momentaneamente a visão (ofuscamento). Nessa situação, o condutor deve desviar sua visão para uma referência:

- a. ( ) Fixa no chão.
- b. ( ) No centro da pista.
- c. ( ) Móvel na paisagem.
- d. (X) Na faixa à direita da pista.
- e. ( ) Na faixa à esquerda da pista.

**34.** Ingerir bebida alcoólica ou usar drogas, além de reduzir a concentração, afeta a coordenação motora, muda o comportamento e diminui o desempenho, limitando a percepção de situação de perigo e:

- a. ( ) Aguçando a visão.
- b. ( ) Aumentando o reflexo.
- c. ( ) Aumentando a alegria.
- d. ( ) Diminuindo os riscos.
- e. (X) Reduzindo a capacidade de ação e reação.

**35.** É muito importante para o condutor conhecer as regras de trânsito, a técnica de dirigir com segurança e saber:


- a. ( ) Se comunicar bem.
- b. ( ) Dirigir com emoção.
- c. (X) Como agir em situações de risco.
- d. ( ) A capacidade de tração do veículo.
- e. ( ) Que tipo de carga transportar.



## Sinalização de Tráfego


(7 questões)

36. Assinale a alternativa que indica o significado do sinal de trânsito abaixo.



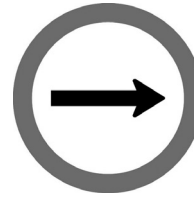
- a. ( ) Siga em frente.
- b. ( ) Proibido circular.
- c. ( ) Virar à esquerda.
- d. (X) Sentido circular obrigatório.
- e. ( ) Uso obrigatório de corrente.

37. Assinale a alternativa que indica o significado do sinal de trânsito abaixo.



- a. (X) Alfândega.
- b. ( ) Proibido transitar.
- c. ( ) Proibido estacionar.
- d. ( ) Peso máximo permitido.
- e. ( ) Estacionamento regular.

38. Assinale a alternativa que indica o significado do sinal de trânsito abaixo.



- a. ( ) Vire à direita.
- b. ( ) Passagem obrigatória.
- c. (X) Sentido de circulação da via.
- d. ( ) Proibido virar à esquerda.
- e. ( ) Proibido retornar.

39. Assinale a alternativa que indica o significado do sinal de trânsito abaixo.



- a. (X) Conserve-se à direita.
- b. ( ) Conserve-se à esquerda.
- c. ( ) Comprimento máximo permitido.
- d. ( ) Comprimento máximo permitido.
- e. ( ) Ônibus, caminhões e veículos de grande porte mantenham à direita.

40. Assinale a alternativa que indica o significado do sinal de trânsito abaixo.



- a. ( ) Estreitamento central.
- b. (X) Fonte estreita.
- c. ( ) Fim de pista dupla.
- d. ( ) Início de pista dupla.
- e. ( ) Diminua a velocidade.

**41.** Assinale a alternativa que indica o significado do sinal de trânsito abaixo.



- a.  Pista dividida.
  - b.  Fim de pista dupla.
  - c.  Alargamento de via.
  - d.  Início de pista dupla.
  - e.  Passagem de nível sem barreira.
- 

**42.** Assinale a alternativa que indica o significado do sinal de trânsito abaixo.



- a.  Bifurcação em "T".
  - b.  Curva à esquerda.
  - c.  Cruzamento de vias.
  - d.  Via lateral à esquerda.
  - e.  Entroncamento oblíquo à esquerda.
- 

**Identificação e localização de ruas e logradouros do Município** (8 questões)

---

**43.** Assinale a alternativa que indica o local onde está situado o Museu Histórico de Santa Catarina.

- a.  Forte Santa Bárbara – Rua Antonio Luz.
- b.  Colégio Catarinense – Rua Esteves Júnior.
- c.  Palácio Cruz e Souza – Praça 15 de Novembro.
- d.  Forte Santana – Avenida Rubens de Arruda Ramos.
- e.  Campus Universitário João David Ferreira Lima – Trindade.

**44.** Se você estiver trafegando pela Avenida Trompowsky, em direção à Avenida Rubens de Arruda Ramos, irá chegar à rua:

- a.  Alves de Brito.
  - b.  Bocaiúva.
  - c.  Presidente Wenceslau.
  - d.  Jerônimo Coelho.
  - e.  Esteves Júnior.
- 

**45.** Um turista deseja visitar o Parque da Luz. Onde fica?

- a.  Carianos.
  - b.  Estrada geral da Joaquina.
  - c.  Altos da Rua Felipe Schmidt.
  - d.  Bairro do Balneário, no continente.
  - e.  Canasvieiras, nas cercanias do Colégio Osmar Cunha.
- 

**46.** Você está parado na Rua Monsenhor Topp, onde deixou um passageiro. Uma senhora deseja ser conduzida à Maternidade mais próxima. Qual dos estabelecimentos abaixo está mais perto do ponto em que se encontra?

- a.  Clínica Jane.
  - b.  Policlínica São Lucas.
  - c.  Hospital e Maternidade São Sebastião.
  - d.  Maternidade-Clinica Santa Helena.
  - e.  Maternidade Dr. Carlos Correa.
- 

**47.** Um turista deseja visitar a igreja de Nossa Senhora das Necessidades. Se você está na Avenida Beira Mar Norte, por qual das rodovias abaixo irá seguir?

- a.  SC 100
- b.  SC 405
- c.  SC 406
- d.  SC 401.
- e.  BR 101

**48.** Dona Jennifer deseja levar seu filho Marcelino ao Parque Vereador Pedro Medeiros, que fica muito perto da sua casa. Em qual das ruas abaixo ela provavelmente reside?

- a. ( ) Avenida dos Dourados.
  - b. (X) Rua Professor Barreiros Filho.
  - c. ( ) Rua Presidente Coutinho.
  - d. ( ) Rua Nestor Passos.
  - e. ( ) Rua das Piraúnas.
- 

**49.** O Centro Integrado de Cultura (CIC) está situado em qual dos logradouros abaixo listados?

- a. ( ) Rua Arcipreste Páiva.
  - b. ( ) Rua Fernando Machado.
  - c. ( ) Rua Marechal Guilherme.
  - d. ( ) Rua Presidente Nereu Ramos.
  - e. (X) Avenida Governador Irineu Bornhausen.
- 

**50.** Um turista deseja visitar um amigo que mora na Rua das Tilápias, perto do Beco da Chica. Assinale o bairro onde está localizada essa rua.

- a. (X) Campeche.
- b. ( ) Canasvieiras.
- c. ( ) Rio Vermelho.
- d. ( ) Lagoa da Conceição.
- e. ( ) Ponta das Canas.

**Página  
em Branco.  
(rascunho)**

**Página  
em Branco.  
(rascunho)**

**Página  
em Branco.  
(rascunho)**





**FEPESE • Fundação de Estudos e  
Pesquisas Sócio-Econômicos**  
Campus Universitário • UFSC  
88040-900 • Florianópolis • SC  
Fone/Fax: (48) 3953-1000  
<http://www.fepese.ufsc.br>